



# 5. TR. VIDEOHODINA - KONTROLA 6.5.

4. Doplň výrok:

Desetinné číslo dělíme 10, 100, 1000 tak, že číslo ..... a desetinnou čárku ..... o jedno (dvě, tři) místo .....

Desetinnou čárku posouváme o tolik míst, kolik ..... obsahuje dělitel, jímž desetinné číslo dělíme.

5. Vyděl desetinné číslo:

6,7

deseti:  $6,7 : 10 = \dots\dots\dots$

stem:  $6,7 : 100 = \dots\dots\dots$

tisícem:  $6,7 : 1000 = \dots\dots\dots$


6. Vyděl:

číslo	: 10	: 100	: 1000
20,4			
411,9			
3,7			
54,5			
144,4			
20,6			
780			
0,9			

# ⓐ 5. TR. KONTROLA 7.5.

Vypočítej obsah obdélníku podle velikosti zadaných stran, vybarvi správný počet čtverečků ve čtverci.

Viz příklad:



$$a = 5 \text{ cm}$$

$$b = 3 \text{ cm}$$


$$S = a \cdot b$$

$$S = 5 \cdot 3$$

$$S = \underline{\underline{15 \text{ cm}^2}}$$

Vybarvi 5 · 3  
čtverečky,  
což je 15 cm<sup>2</sup>

1.




$$a = 4 \text{ cm}$$

$$b = 5 \text{ cm}$$

$$S = \underline{\hspace{2cm}}$$

2.



$$a = 7 \text{ cm}$$

$$b = 3 \text{ cm}$$

$$S = \underline{\hspace{2cm}}$$