

Vypočítej.

M PL 1

(A)

$10 + 3 =$

$12 + 4 =$

$13 + 6 =$

$10 + 8 =$

$17 + 2 =$

$15 + 5 =$

$16 + 3 =$

(D)

M PL 2

$15 - 4 =$

$17 - 8 =$

$10 - 5 =$

$18 - 2 =$

$17 - 3 =$

$20 - 5 =$

$10 - 9 =$

$15 - 4 =$

(G)

M PL 3

$14 + 6 =$

$17 - 2 =$

$20 - 5 =$

$15 + 3 =$

$10 + 10 =$

$20 - 7 =$

$19 + 1 =$

$20 - 8 =$

$19 - 3 =$

(B)

PL 1

$14 + 5 =$

$19 + 1 =$

$10 + 10 =$

$12 + 6 =$

$17 + 3 =$

$15 + 4 =$

$20 + 0 =$

(E)

PL 2

$20 - 8 =$

$19 - 7 =$

$16 - 6 =$

$17 - 4 =$

$18 - 5 =$

$19 - 9 =$

$11 - 1 =$

$20 - 9 =$

(H)

PL 3

$18 + 2 =$

$17 - 5 =$

$13 - 2 =$

$15 + 4 =$

$17 - 6 =$

$19 - 9 =$

$10 + 5 =$

$17 + 2 =$

$13 + 3 =$

(C)

do 20.5

$13 + 3 =$

$10 + 7 =$

$11 + 8 =$

$14 + 4 =$

$19 + 1 =$

$17 + 2 =$

$16 + 2 =$

(F)

do 20.5

$10 - 6 =$

$13 - 3 =$

$14 - 2 =$

$17 - 5 =$

$18 - 8 =$

$20 - 7 =$

$19 - 8 =$

$15 - 4 =$

(I)

do 22.5

$19 - 7 =$

$16 + 3 =$

$18 - 5 =$

$16 + 4 =$

$20 - 9 =$

$13 - 2 =$

$14 + 5 =$

$15 + 4 =$

$17 + 1 =$

# Tuto stránku, milé děti, vypočítal Krémálek



zkusí to též Vochomůrka,  
ať se stránka vydaří.  
Pro vás je to děti hračka,  
vždyť jste skvělí počítáři.



*MPL 5 de 20. 5. 21*

## 1. Počítej:

$10 + 6 =$	$10 + 8 =$	$4 + 10 =$	$5 + 10 =$
$6 + 10 =$	$8 + 10 =$	$6 + 10 =$	$7 + 10 =$

## 2. Kolik je hodin:

$10\text{ h} + 3\text{ h} =$	$h$	$12\text{ h} + 8\text{ h} =$	$h$	$17\text{ h} + 2\text{ h} =$	$h$
$10\text{ h} + 5\text{ h} =$	$h$	$11\text{ h} + 5\text{ h} =$	$h$	$13\text{ h} + 4\text{ h} =$	$h$

## 3. Kolik máme peněz?

$19\text{ Kč} + 1\text{ Kč} =$	$\text{Kč}$	$15\text{ Kč} + 3\text{ Kč} =$	$\text{Kč}$	$16\text{ Kč} + 2\text{ Kč} =$	$\text{Kč}$
$19\text{ Kč} - 1\text{ Kč} =$	$\text{Kč}$	$15\text{ Kč} - 3\text{ Kč} =$	$\text{Kč}$	$16\text{ Kč} - 2\text{ Kč} =$	$\text{Kč}$

## 4. Dáplň, kolik hodin uplynulo:

$10\text{ h} +$	$h = 14\text{ h}$	$12\text{ h} +$	$h = 18\text{ h}$	$18\text{ h} +$	$h = 20\text{ h}$
$10\text{ h} +$	$h = 19\text{ h}$	$12\text{ h} +$	$h = 16\text{ h}$	$18\text{ h} +$	$h = 15\text{ h}$

## 5. Požádej paní učitelku o kontrolu.

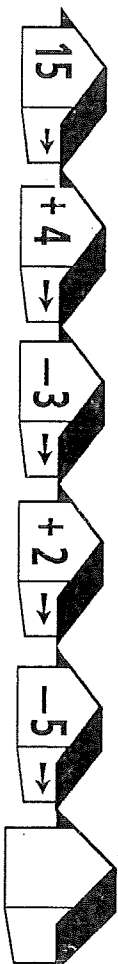
<b>15</b>	$12 +$	$15 +$	$10 +$	Místo pro známku
	$10 +$	$10 +$	$15 +$	
	$11 +$	$16 +$	$20 +$	
	$13 +$	$19 +$	$18 +$	
<b>16</b>	$12 +$	$15 +$	$10 +$	
	$10 +$	$10 +$	$15 +$	
	$11 +$	$16 +$	$20 +$	
	$13 +$	$19 +$	$18 +$	
<b>19</b>	$15 +$	$10 +$	$15 +$	
	$10 +$	$10 +$	$15 +$	
	$11 +$	$16 +$	$20 +$	
	$13 +$	$19 +$	$18 +$	
<b>20</b>	$10 +$	$15 +$	$15 +$	
	$10 +$	$10 +$	$15 +$	
	$11 +$	$16 +$	$20 +$	
	$13 +$	$19 +$	$18 +$	

*M PL 4 de 22. 5.*

Otevři Moje první počítání pro obecnou školu, str. 31

## Počítej:

$16 + 3 =$	$14 + 4 =$	$12 + 6 =$	$11 + 8 =$
$15 + 3 =$	$14 + 3 =$	$16 + 2 =$	$12 + 7 =$
$14 + 3 =$	$14 + 2 =$	$13 + 6 =$	$13 + 6 =$
$15 + 4 =$	$14 + 5 =$	$16 + 3 =$	$11 + 5 =$
$13 + 4 =$	$12 + 6 =$	$14 + 5 =$	$12 + 5 =$
$11 + 4 =$	$12 + 5 =$	$15 + 4 =$	$13 + 5 =$
$19 - 3 =$	$19 - 5 =$	$19 - 7 =$	$15 - 3 =$
$18 - 3 =$	$18 - 5 =$	$18 - 7 =$	$16 - 3 =$
$17 - 3 =$	$17 - 5 =$	$17 - 7 =$	$16 - 5 =$
$17 - 4 =$	$17 - 6 =$	$19 - 8 =$	$15 - 5 =$
$18 - 4 =$	$18 - 6 =$	$18 - 8 =$	$19 - 4 =$
$19 - 4 =$	$19 - 6 =$	$19 - 9 =$	$18 - 4 =$



## Počítej:

$20 - 1 - 4 =$	$19 - 1 - 3 =$	$17 - 4 - 2 =$
$20 - 2 - 4 =$	$19 - 2 - 4 =$	$17 - 3 - 4 =$
$20 - 1 - 3 =$	$19 - 2 - 5 =$	$18 - 2 - 5 =$
$20 - 3 - 4 =$	$19 - 2 - 1 =$	$18 - 3 - 4 =$
$20 - 2 - 5 =$	$18 - 5 - 3 =$	$18 - 1 - 3 =$

M PL 6 do 20.5.

1 hodina = 1 h

$$17 \text{ h} + 2 \text{ h} =$$

$$13 \text{ h} - 2 \text{ h} =$$

$$19 \text{ h} - 4 \text{ h} =$$

$$20 \text{ h} - 6 \text{ h} =$$

$$14 \text{ h} - 14 \text{ h} =$$

$$19 \text{ h} + 1 \text{ h} =$$

$$20 \text{ h} - 0 \text{ h} =$$

$$18 \text{ h} + 2 \text{ h} =$$

15 h >

15 h <

20 h >

20 h <

11 h >

11 h <

17 h >

10 h <

1. SEKUNDA

6. MĚSÍC

2. MINUTA

7. ROK

3. HODINA


4. DEN

JMÉNO:

5. TÝDEN



M 7L7 do 20.5



Co je na obrázku? \_\_\_\_\_

- 4 ... hnědá
- 5 ... světle modrá
- 6 ... žlutá
- 7 ... růžová
- 8 ... zelená

**SKUPINOVÁ PRÁCE - list C**

Spočítejte příklady a vykreslujte jednotlivé části obrázku podle výsledků.  
Odpovězte na otázku slovem nadřazeným.

M PL 10 do 20.5.


1. Co měříme na litry?

Vybarvi písmena

jen za tím, co se měří v litrech.

2. Tajenku napiš do bubliny.

3. Dokresli podle ní obrázek.



MÁM VELKOU  
ŽÍŽEN. NALEJ MI

.....  
SKLENICI LIMONÁDY.

mléko	Ú
chleba	S
benzín	P
cukr	O
olej	L
písek	J
džus	N
citrony	A
ocet	Ě
voda	P
uhlí	T
kefir	L
sýr	E
čaj	N
nafta	O
železo	K
sirup	U
buchty	Y

20 = 7 +	13	M
18 = 2 +		
19 = 2 +		
20 = 6 +		
17 = 6 +		
20 = 0 +		
19 = 7 +		
20 = 1 +		
13 = 2 +		
19 = 5 +		
20 = 8 +		
18 = 3 +		
15 = 3 +		
20 = 2 +		

1. Doplň čísla.
2. Dopiš do barevných políček písmena podle tabulky.
3. Tajenku dokresli na obrázek.

11	A
12	E
13	M
14	K
15	Ř
16	I
17	C
18	M
19	Z
20	J

KAM SE  
ZATOULALA  
NAŠE KOČKA?

