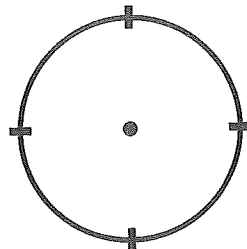


min

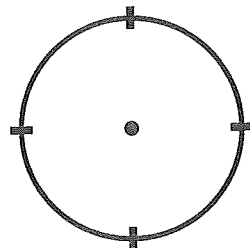
- ♣ Matěj se rozhodl, že si bude zapisovat startovací a cílové časy všech závodníků. Vypočti, jak dlouho jednotlivá závodní auta jela a jaké bylo jejich konečné pořadí.

Start (h)	Cíl (h)	Čas v min	Pořadí
08:00	08:52		
08:02	08:55		
08:04	08:40		
08:06	09:06		
08:08	08:58		
	09:12		
	09:25		
	09:15		

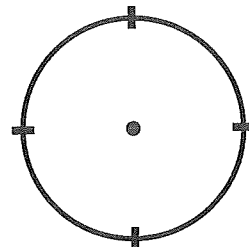
VÍTĚZ



2. MÍSTO




POSLEDNÍ

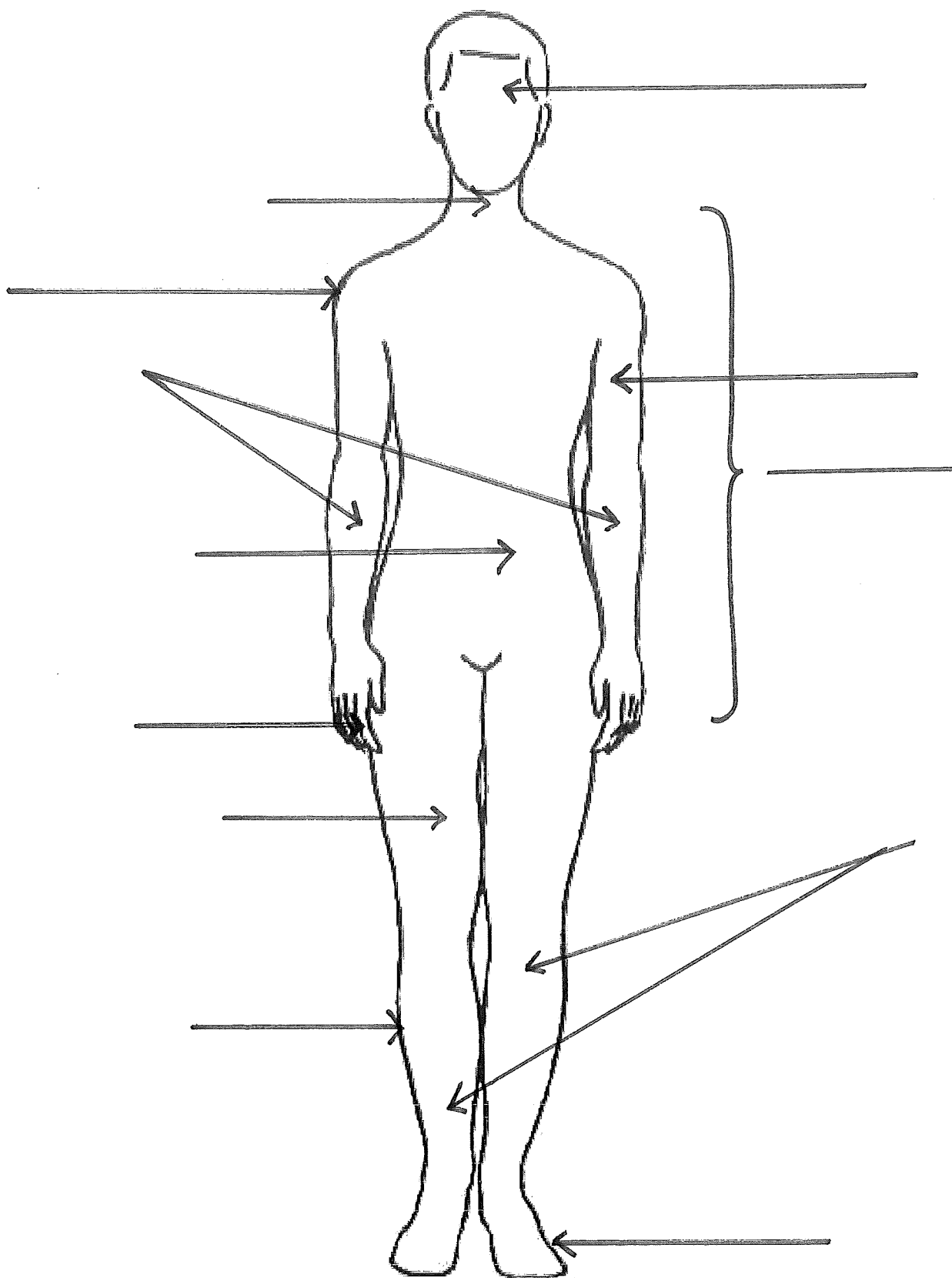


- ◆ O kolik minut déle jel závodník na druhém místě než vítězný závodník?
- O kolik minut déle jel závodník na posledním místě než vítěz závodu?

Své odpovědi zakresli do hodin.



Popiš jednotlivé části lidského těla:



POSLAT 12.6.

Popiš části obličeje:

