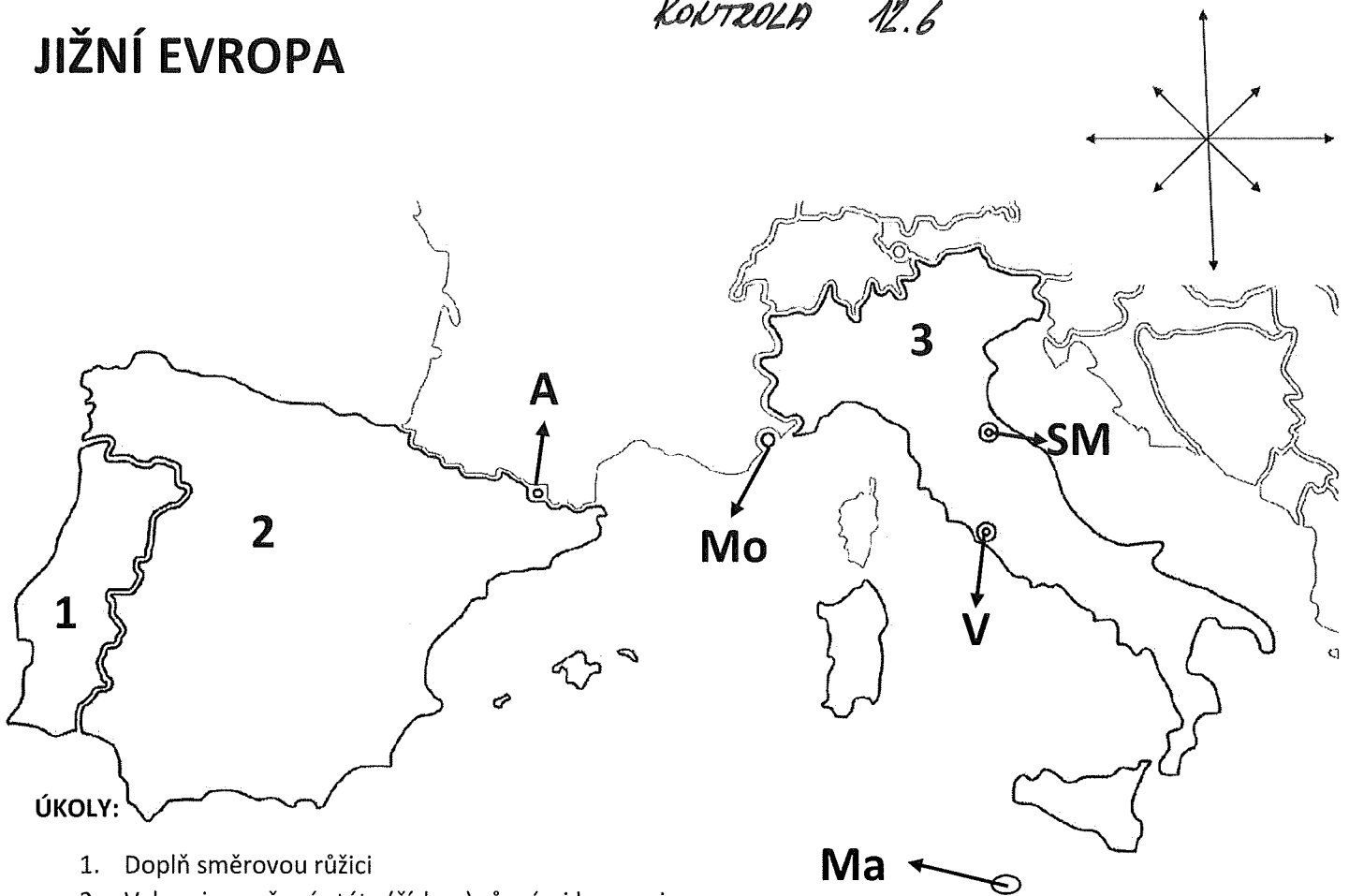



JIŽNÍ EVROPA



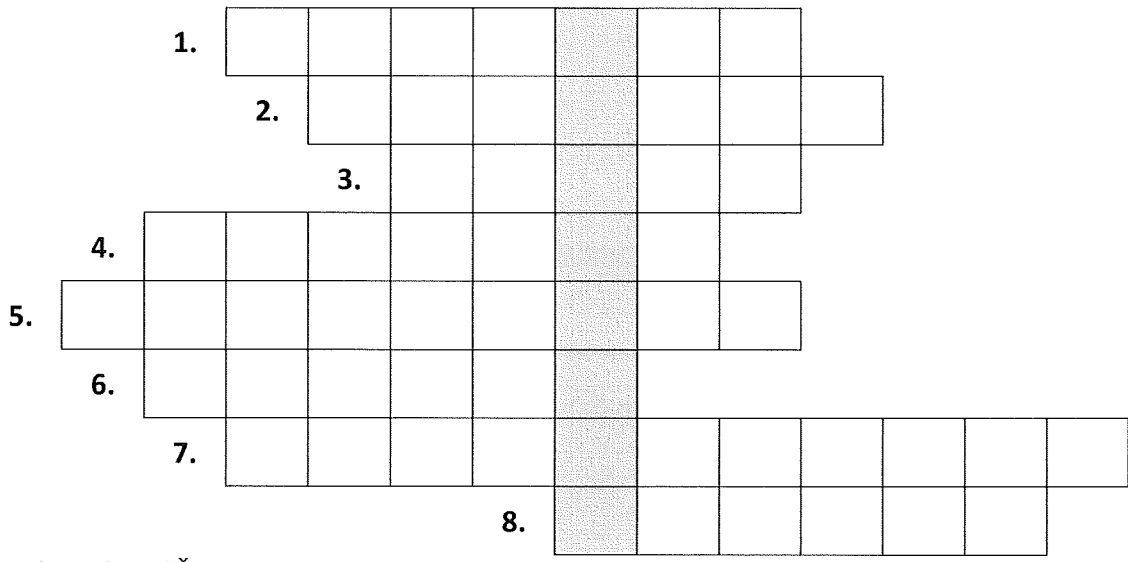
ÚKOLY:

1. Doplň směrovou růžici
2. Vybarvi označené státy (číslem) různými barvami
3. Dopiš do tabulky hlavní města daných států



	STÁT	HLAVNÍ MĚSTO
1	Portugalsko	
2	Španělsko	
3	Itálie	
A	Andorra	
V	Vatikán	Městský stát
Mo	Monako	Městský stát
Ma	Malta	
SM	San Marino	

1. Křížovka



- 1. Stát na území Říma
- 2. Malá země ležící v Pyrenejích
- 3. Ostrovní stát jižní Evropy
- 4. Hlavní město Portugalska
- 5. Madrid je hlavní město
- 6. Řím je hlavním městem
- 7. Země na západním pobřeží Pyrenejského poloostrova
- 8. Malá země v jihozápadní Francii

Tajenka:

--	--	--	--	--	--	--	--	--	--

Vysvětli, co znamená slovo v tajence.

2. Milovníci hor navštěvují Alpy. Zjisti na mapě Evropy, ve kterých státech Alpy leží. Napovím, že jich je 7.

PRO CHYTRÉ HLAVY – DOBROVOLNÝ ÚKOL

3. Vyzkoušej si znalosti o jižní Evropě. U každé otázky zakroužkuj všechny správné odpovědi.

1. Státy J Evropy leží na poloostrovech	O Pyrenejský	Z Krym	L Apeninský
2. Ostrovní země J Evropy jsou	A Španělsko	Y Malta	N Portugalsko
3. Státy J Evropy neleží v pásu	M polárním	V mírném	I subtropickém
4. V Itálii se koupeme v moři	N Baltském	P Jaderském	T Černém
5. Zdrojem příjmů zemí J Evropy je	I cestovní ruch	K těžba uhlí	E chov sobů
6. Z J Evropy se k nám dováží	U kožešiny	J ovoce	S víno
7. Pohoří jihoevropských států	K Alpy	D Kavkaz	É Pyreneje
8. Jihoevropskou zemí není	R Monako	S Malta	H Polsko
9. V J Evropě najdeme	V Karlův most	R Koloseum	Y sídlo papeže

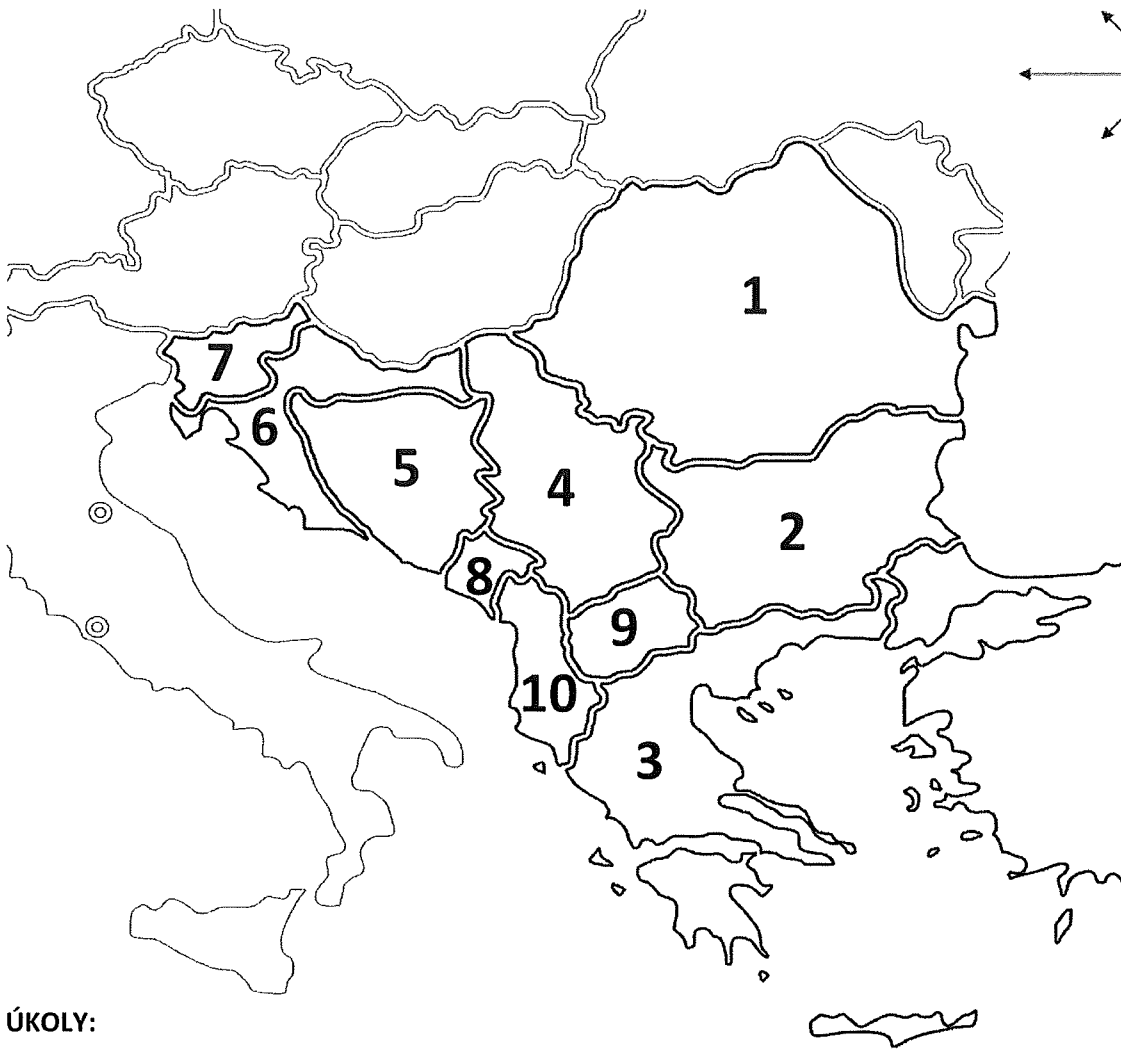
První

--	--	--	--	--	--	--	--	--	--

--	--	--


se konaly v Řecku.

JIHOVÝCHODNÍ EVROPA



ÚKOLY:


1. Doplně směrovou růžicí
2. Vybarvi označené státy (číslem) různými barvami
3. Dopiš do tabulky hlavní města daných států



	STÁT	HLAVNÍ MĚSTO
1	Rumunsko	
2	Bulharsko	
3	Řecko	
4	Srbsko	
5	Bosna a Hercegovina	
6	Chorvatsko	
7	Slovinsko	
8	Černá Hora	
9	Makedonie	
10	Albánie	

1. Doplň k názvům země hlavní město a k městu název státu (pracuj s mapou) V napsaných slovech zakroužkuj písmeno, jehož pořadí ti napoví číslo v závorce. Písmenka postupně zapiš do rámečku, kde ti vyjde tajenka.

1.	Rumunsko (1)	Vzor: <u>B</u> UKUREŠŤ
2.	Bosna a Hercegovina (2)	
3.	Sofie (3)	
4.	Záhřeb (8)	
5.	Tirana (4)	
6.	Sarajevo (4)	
7.	Lublaň (1)	
8.	Makedonie (2)	
9.	Podgorica (dlouhé 2)	
10.	Chorvatsko (1)	
11.	Bulharsko (5)	
12.	Skopje (1)	
13.	Srbsko (2)	



Tajenka:

B									
----------	--	--	--	--	--	--	--	--	--

--	--	--	--

2. Vypište s pomocí mapy, přes které státy cestujeme, když jedeme autem do:

Chorvatska: _____

Bulharska: _____

3. Který evropský veletok protéká JV Evropou? Napovím, je to druhá nejdelší řeka Evropy. Napiš, kterými státy tato řeka protéká.

4. Vybarvi různými barvami názvy moří, v nichž se můžeme koupat na dovolené v JV Evropě.

JA	DO	KAS	E	ZEM	SKÉ	KÉ	STŘE	NÍ	GEJ	PIC	DER
1.	8.	11.	4.	9.	3.,6.	13.	7.	10.	5.	12.	2.

Názvy moří napiš na linku: _____