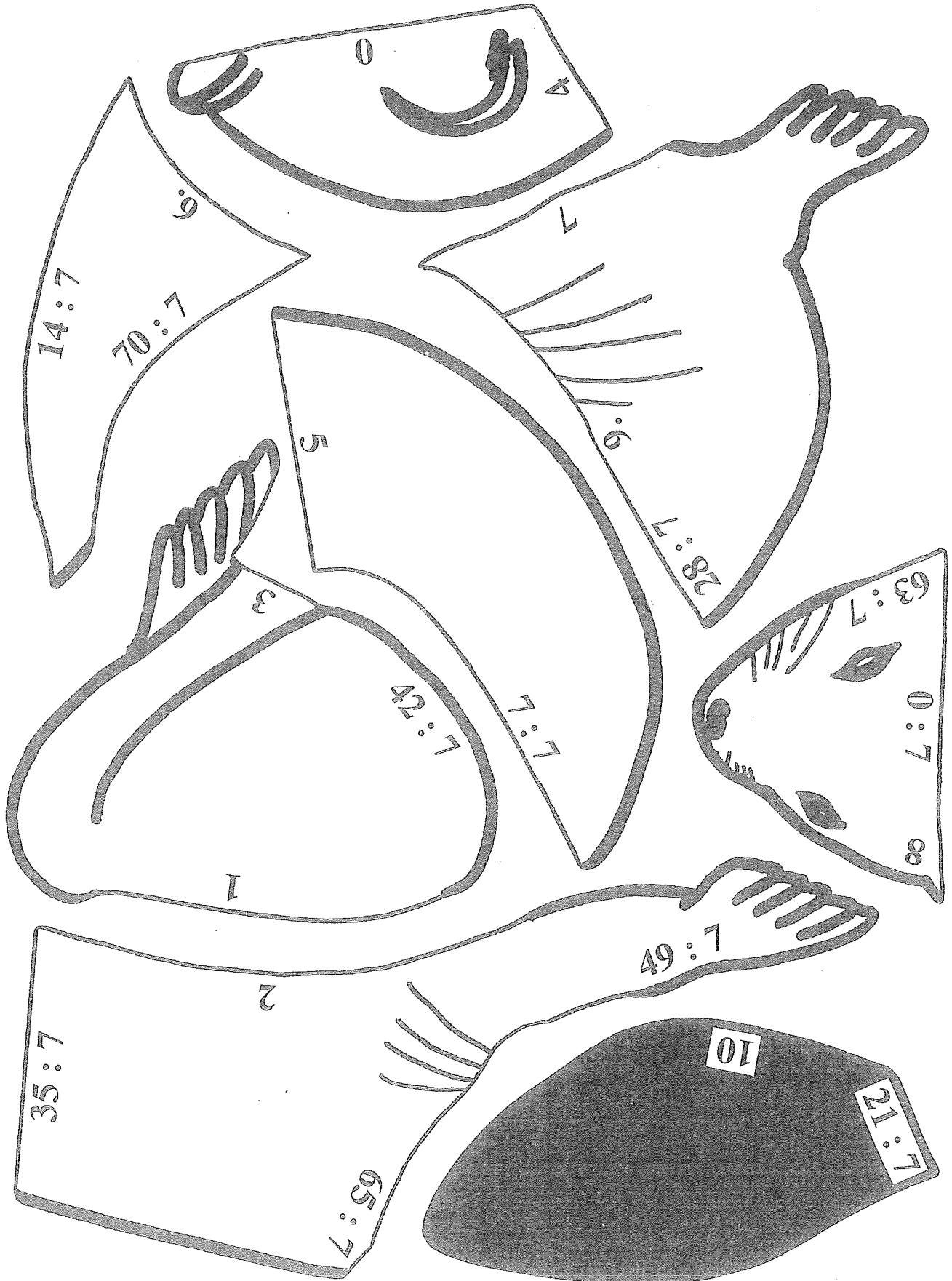



Mgr. Jarmila Posádková: Hrajeme si s násobilkou
H - 7



Vypočítej příklady a obrázek vybarvi.



oranžová
12

hnědá
20

černá
24

žlutá
30

červená
36

modrá
42

zelená
56

7. V každé tabulce máš uveden součet. Doplň k němu několik příkladů na sčítání podle vzoru.

33
$28 + 5$
$30 + 3$
$26 + 7$

41

92

8. Doplň správně číselné řady.

	9	12							30
--	---	----	--	--	--	--	--	--	----

8	13	18							
---	----	----	--	--	--	--	--	--	--

57	59	61							
----	----	----	--	--	--	--	--	--	--

63	58	53							
----	----	----	--	--	--	--	--	--	--

9. Vypočítej.

$45 : 5 =$ $35 : 5 =$ $18 : 2 =$ $16 : 4 =$ $20 : 2 =$
 $28 : 4 =$ $21 : 3 =$ $40 : 5 =$ $24 : 3 =$ $30 : 5 =$

10. Doplň správně do tabulky. Rozdíl zaokrouhli na desítky.

menšenec	menšítel	rozdíl	zaokrouhleno
	5	58	
	9	46	
72	9		

11. Doplň do tabulky.

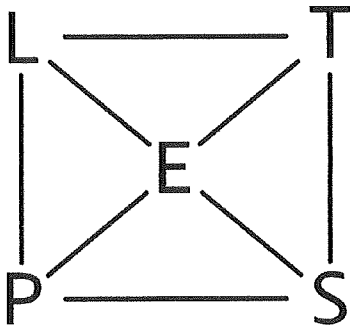
dělenec	dělitel	podíl
	5	9
27	3	
35		5
18		2
	4	7

12. Vypočítej.

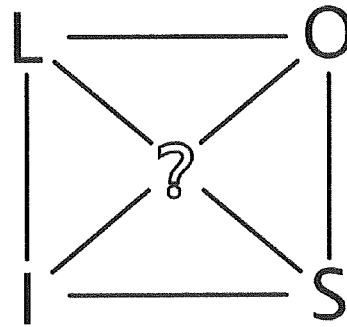
$8 \cdot 5 =$ $9 \cdot 2 =$ $45 : 5 =$ $27 : 3 =$ $15 : 5 =$
 $7 \cdot 3 =$ $6 \cdot 4 =$ $32 : 4 =$ $20 : 4 =$ $40 : 5 =$

Matematická výzva

1. Najdi co nejvíce slov a napiš je.



2. Dopln místo otazníku písmeno. Najdi co nejvíce slov a napiš je.



2. Dopln tabulku.

pavouci	1	2		3		
mravenci	3	1	2		3	
pavouci nohou			8			8
mravenci nohy				12		
celkem nohou					34	32

3. Dopln.

Na sestavení stavebnice pirátské lodi potřebujeme:

- 1 kýl, kormidlo a kapitánský můstek,
- 2 stěžně,
- 6 plachet,
- 5 pirátů,
- 3 děla,
- 8 sudů se střelným prachem,
- 9 dělových koulí.

Na pirátskou flotilu o třech lodích potřebujeme:

- _____ kýly, kormidla a kapitánské můstky,
- _____ stěžňů, _____ plachet, _____ pirátů,
- _____ děl, _____ sudů se střelným prachem,
- _____ dělových koulí.

4. Kdo se schovává v šifře?

$9 \cdot 5 = O$

$7 \cdot 8 = Í$

$3 \cdot 8 = V$

$7 \cdot 7 = T$

$7 \cdot 3 = S$

$9 \cdot 2 = Á$

$4 \cdot 4 = L$

$6 \cdot 5 = R$

$8 \cdot 8 = K$

$6 \cdot 4 = V$



64

30

18

16

45

24

21

49

24

56