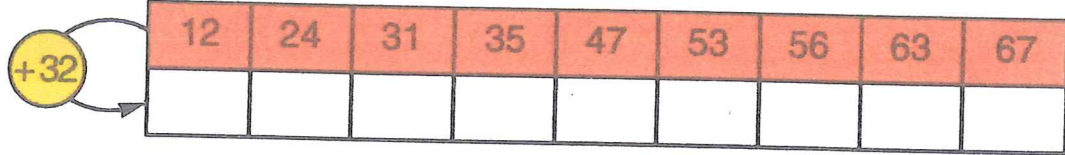
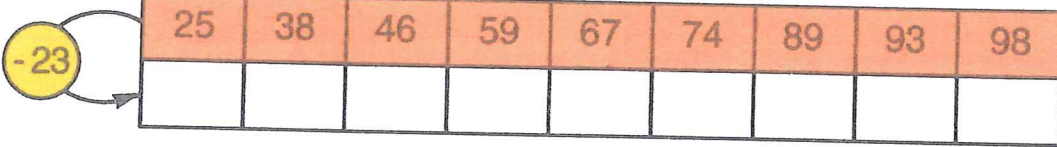
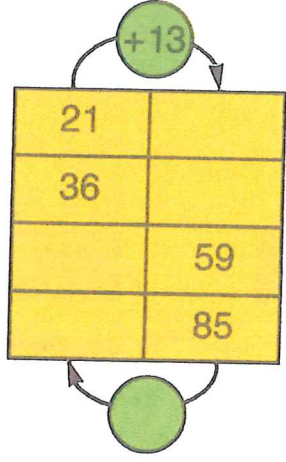
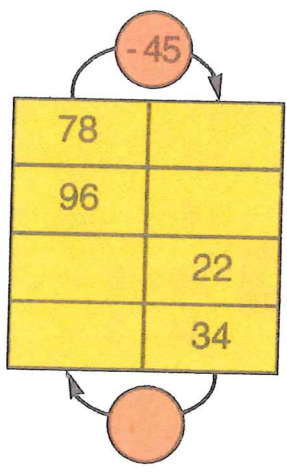


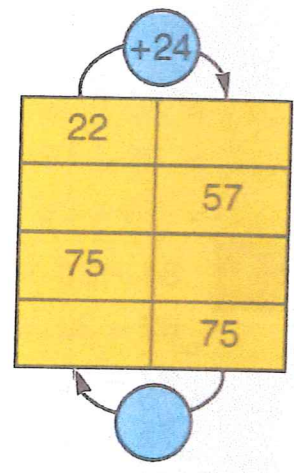
1. 

2. 

3. $21 + 46 = \dots$ $97 - 23 = \dots$ $34 + 35 = \dots$ $28 + 31 = \dots$
 $74 - 21 = \dots$ $52 + 17 = \dots$ $35 - 15 = \dots$ $32 - 11 = \dots$
 $35 + 12 = \dots$ $21 + 65 = \dots$ $45 - 23 = \dots$ $50 + 43 = \dots$
 $68 - 14 = \dots$ $89 - 36 = \dots$ $51 - 11 = \dots$ $66 - 32 = \dots$
 $43 + 25 = \dots$ $72 + 24 = \dots$ $95 - 64 = \dots$ $43 + 36 = \dots$

4. 





5. $51 + \dots = 84$ $36 - \dots = 21$ $\dots - 12 = 21$
 $35 + \dots = 98$ $54 - \dots = 43$ $\dots - 21 = 34$
 $74 + \dots = 96$ $76 - \dots = 52$ $\dots - 52 = 20$
 $16 + \dots = 48$ $84 - \dots = 60$ $\dots - 45 = 12$
 $25 + \dots = 49$ $95 - \dots = 33$ $\dots - 16 = 23$

SKUPINOVÁ PRÁCE 8

Části obrázku vykreslete podle výsledků příkladů, lepte do tabulky listu A.
Řiďte se pomocnými slovy (jména českých měst), která poskládejte podle abecedy.

30 : 5

Labe

18 : 3

Brno

9 Déčín

9 Ústí n. L.

9 Pardubice

Labe

36 : 4

81 : 9

72 : 8

Cheb

36 : 6

54 : 6

9 Aš

9 Ohře

9 Karlovy Vary

9 Berounka

36 : 4

Cheb

Hodonín

40 : 8

35 : 5

Morava

9 Hradec Králové

9 Písek

45 : 5

Jihlava

20 : 4

Odra

10 : 2

Děčín

15 : 3

24 : 4

6

9

9

České Budějovice

25 : 5

Domažlice

45 : 9

Odra

30 : 6

trava

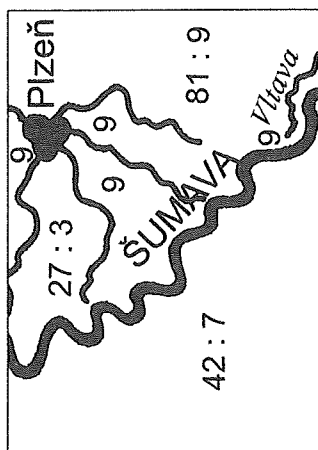
Liberec

- 3 ... fialová
- 4 ... oranžová
- 5 ... modrá
- 6 ... červená
- 7 ... světle hnědá
- 8 ... světle zelená
- 9 ... žlutá

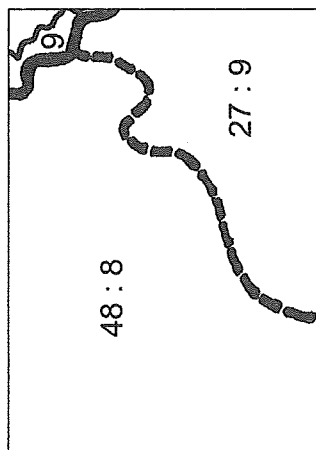
SKUPINOVÁ PRÁCE 8

Části obrázku vykreslete podle výsledků příkladů, lepte do tabulky listu A.

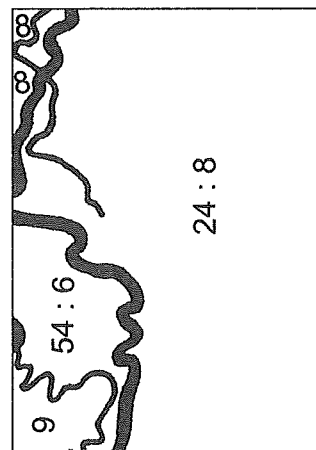
Řiďte se pomocnými slovy (jména českých měst), která poskládejte podle abecedy.



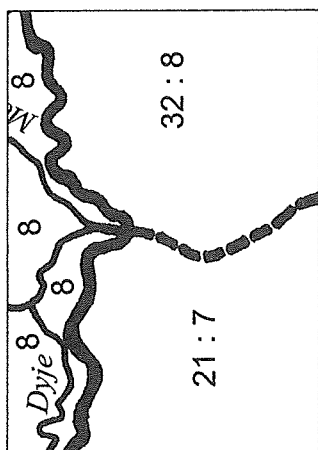
Mělník



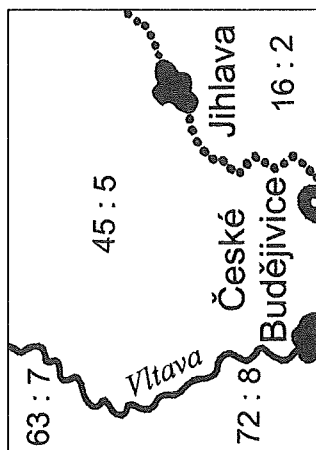
Ostrava



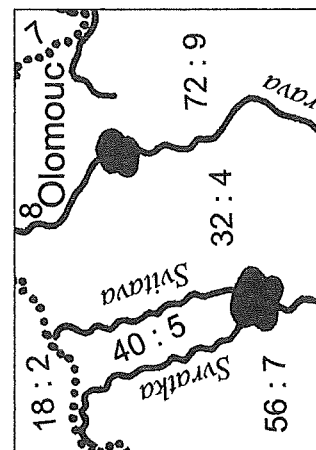
Pardubice



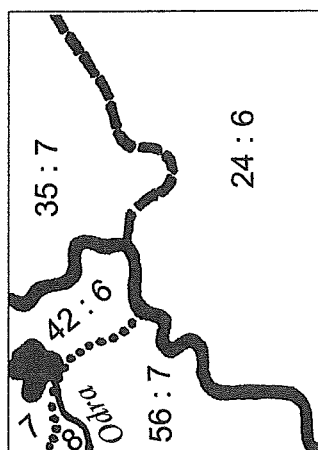
Plzeň



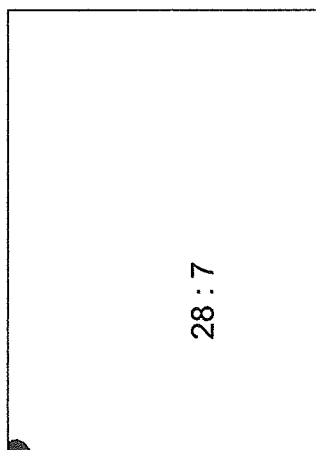
Náchod



Olomouc



Opava



Praha

- 3 ... fialová
- 4 ... oranžová
- 5 ... modrá
- 6 ... červená
- 7 ... světle hnědá
- 8 ... světle zelená
- 9 ... žlutá

SKUPINOVÁ PRÁCE 8 - list A

Tabulka k nalepení částí obrázku. Pomocná slova u částí obrázku poskládejte podle abecedy, přiřaďte jim čísla 1 – 16 a lepte do tabulky na políčka se shodnými čísly.

| | | | |
|---|---|----|----|
| 4 | 8 | 12 | 16 |
| 3 | 7 | 11 | 15 |
| 2 | 6 | 10 | 14 |
| 1 | 5 | 9 | 13 |

G-3. TRÜIDA
KONTROLA
27.11.

