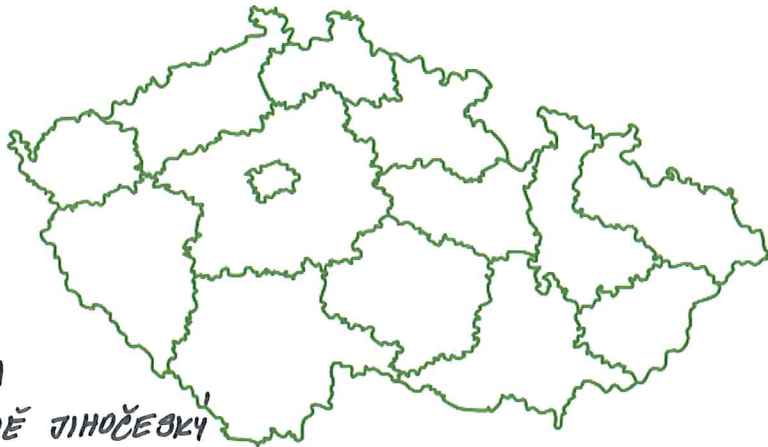


JIHOČESKÝ KRAJ



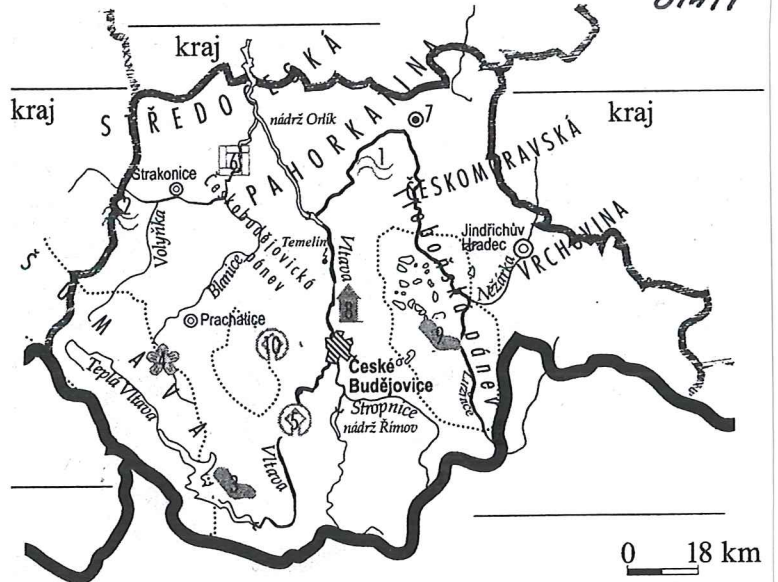
ÚKOL:

VYBARVI
NA MAPĚ JIHOČESKÝ
KRAJ

DOPLŮV SLEPOU MAPU

- 1.
- 2.
- 3.
4. PRALES
- 5.
- 6.
- 7.
- 8.
- 9.
- 10.

DOPLŮV KRAJE A
SOUSEDNÍ
STÁTY



POLOHA: na jihu Čech, při hranici s Rakouskem

POVRCH: Středočeská pahorkatina, Třeboňská a Českokbudějovická pánev (rybníky), Novohradské hory a **ŠUMAVA – nejmohutnější pohoří ČR**

ŘEKY: Vltava (pramení na Šumavě), Lužnice, Otava, Malše
Orlík, Slapy, Lipno – vodní nádrže na řece Vltavě

Rožmberk – největší rybník v ČR



PRŮMYSL: těžba písků, stavebního kamene a cihlářských hlín, dřevozpracující průmysl, výroba piva – Budvar, Jaderná elektrárna Temelín

ZEMĚDĚLSTVÍ: rybníkářství – chov ryb a kachen, nenáročné plodiny – olejniny, brambory, obilniny

PAMÁTKY A ZAJÍMAVOSTI:

Zámek Hluboká

Holašovice – vesnice zapsaná v UNESCO

Český Krumlov – zámek, historické město, UNESCO

Šumava – letní a zimní turistika, prales Boubín, ledovcová jezera Černé, Čertovo, národní park

Největší rybník v ČR Rožmberk

MĚSTA:

ČESKÉ BUDĚJOVICE – krajské město, čtvercové náměstí, výroba piva značky Budvar


PÍSEK – nejstarší kamenný most v Čechách

TÁBOR – město založené v 15. století husity

JINDŘICHŮV HRADEC, PRACHATICE



ČESKÉ BUDĚJOVICE



ZNAK KRAJE



TÁBOR



TŘEBOŇ




TŘEBOŇSKO - rybníky




ČESKÝ KRUMLOV



PÍSEK



JIHOČESKÝ KRAJ



ZÁKLADNÍ ÚDAJE

Krajské město:

Kolik má okresů:

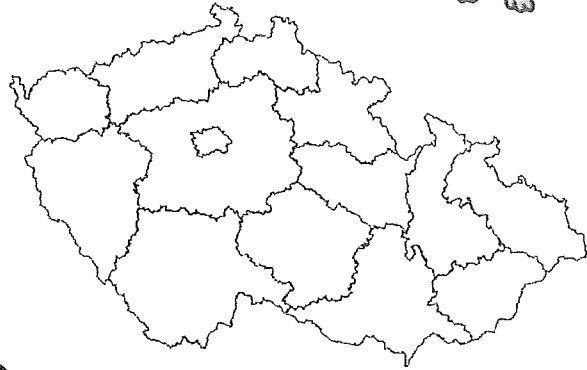
Najdi několik okresních měst:

.....
.....

Nejvyšší bod:

Památka UNESCO

Najdi a vybarvi Jihočeský kraj



CHKO

Jaké chráněné krajinné oblasti jsou v Jižních Čechách?

1. CHKO

2. CHKO

PAMÁTKA – vyber si jednu, která se ti líbí, a nalep nebo nakresli její obrázek.

Jak se jmenuje, a kde se nachází ?

VODSTVO

2 velké řeky:

.....

Najdi 2 vodní nádrže na Vltavě:

1.

2.

Největší rybník u nás:

.....

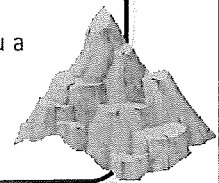
Jmenuj ještě jeden rybník

.....

KRAJINA

Je tvořena pahorkatinou a vrchovinou.

Nachází se zde hory.



ROZUMÍME SI?

Přelož tyto výrazy:

Lechniček

Pikador

Rendlík

SLAVNÝ RODÁK

Jméno:

Co dělá/dělal?

Jak mi to dnes šlo?



VL 4. 12.

KONTROLA VE ŠKOLE

BESTAV OBZÁHEK A KAPER.

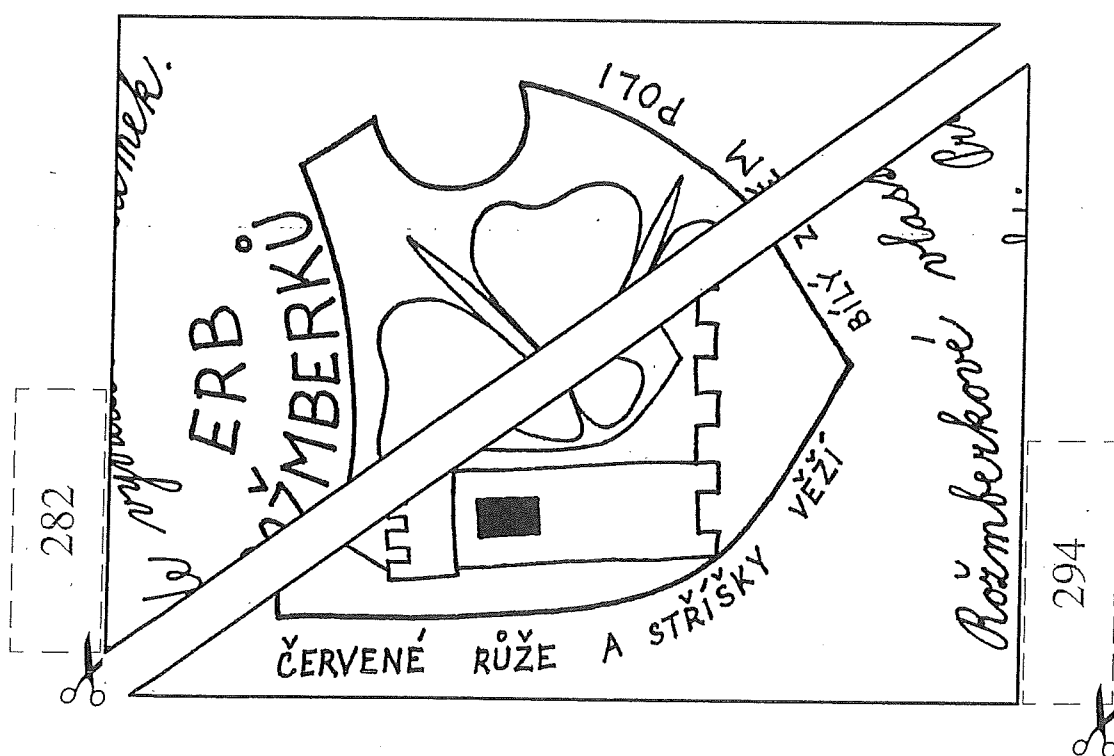
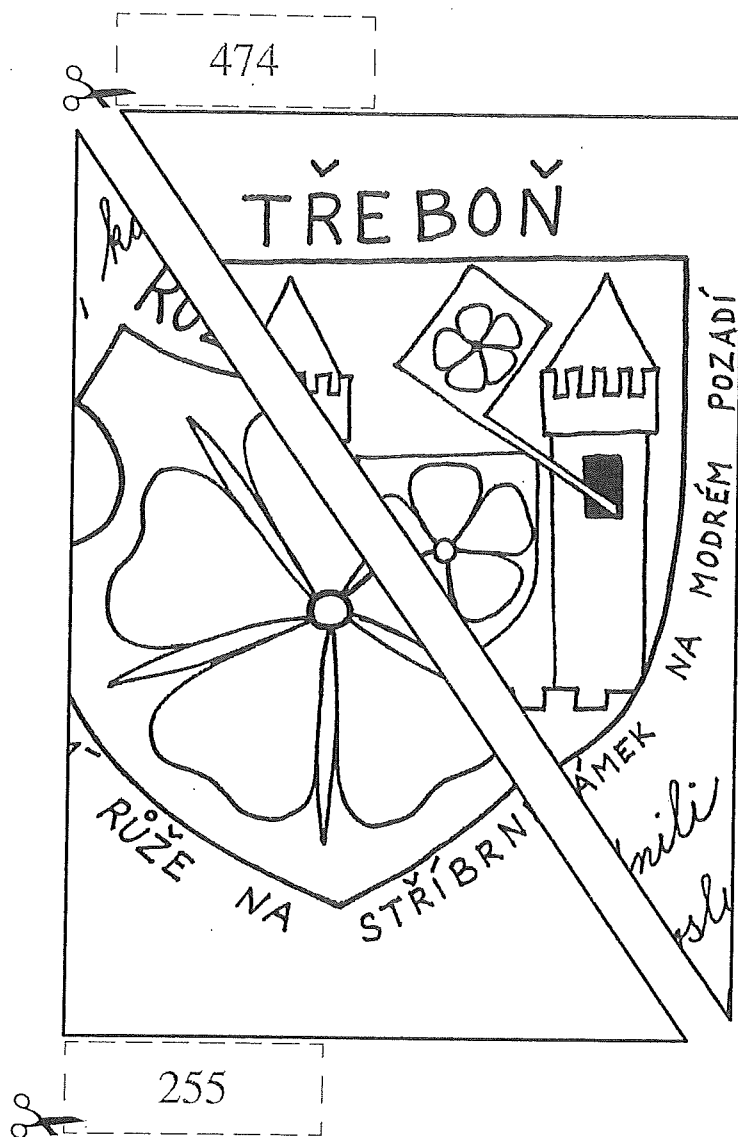
2. 12.

MŮŽEŠ POUŽÍT V KALKULAČKOU ☺.

$6 \cdot 4 + 9 \cdot 50$	$7 \cdot 8 + 6 \cdot 70$
$6 \cdot 9 + 3 \cdot 80$	$9 \cdot 7 + 4 \cdot 80$
$8 \cdot 8 + 9 \cdot 90$	$4 \cdot 8 + 5 \cdot 50$
$7 \cdot 6 + 8 \cdot 90$	$5 \cdot 9 + 3 \cdot 70$

SKUPINOVÁ PRÁCE 6

Části obrázku skládejte do tabulky listu A podle výsledků příkladů.



SKUPINOVÁ PRÁCE 6

Části obrázku skládejte do tabulky listu A podle výsledků příkladů.

