

68

Vypočítej příklady. V každé dvojici porovnej výsledky pomocí znaménka < > .
Začáteční písmeno názvu obrázku, který je u příkladu s menším výsledkem, zapiš do mřížky.



$$\begin{array}{r} 685 \\ - 37 \\ \hline \end{array}$$



$$\begin{array}{r} 675 \\ - 26 \\ \hline \end{array}$$



$$\begin{array}{r} 862 \\ - 36 \\ \hline \end{array}$$



$$\begin{array}{r} 856 \\ - 39 \\ \hline \end{array}$$



$$\begin{array}{r} 964 \\ - 28 \\ \hline \end{array}$$



$$\begin{array}{r} 975 \\ - 36 \\ \hline \end{array}$$



$$\begin{array}{r} 763 \\ - 48 \\ \hline \end{array}$$



$$\begin{array}{r} 756 \\ - 39 \\ \hline \end{array}$$



$$\begin{array}{r} 364 \\ - 38 \\ \hline \end{array}$$



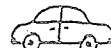
$$\begin{array}{r} 387 \\ - 69 \\ \hline \end{array}$$



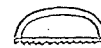
$$\begin{array}{r} 597 \\ - 66 \\ \hline \end{array}$$



$$\begin{array}{r} 581 \\ - 54 \\ \hline \end{array}$$



$$\begin{array}{r} 476 \\ - 38 \\ \hline \end{array}$$




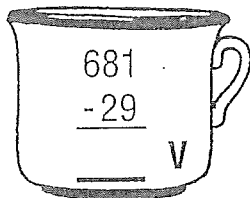
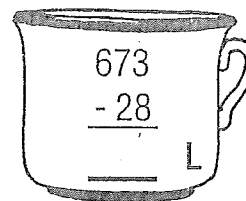

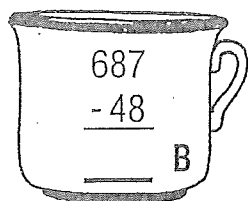



$$\begin{array}{r} 461 \\ - 19 \\ \hline \end{array}$$

--	--	--	--	--	--	--	--

69

Vypočítej příklady. Podívej se, ve kterém hrnku vyšlo největší číslo. Jenom ten je plný.
Pak seřaď všechny výsledky od nejnižšího k nejvyššímu a zapiš je do tabulky.
Do jejího druhého řádku napiš písmena, která k číslům patří.
Vyjde ti, co je v tom plném hrnku.



Písemně násobení

1.	$\begin{array}{r} 234 \\ \cdot 2 \\ \hline \end{array}$ <p>.....</p>	$\begin{array}{r} 302 \\ \cdot 3 \\ \hline \end{array}$ <p>.....</p>	$\begin{array}{r} 121 \\ \cdot 4 \\ \hline \end{array}$ <p>.....</p>	$\begin{array}{r} 424 \\ \cdot 2 \\ \hline \end{array}$ <p>.....</p>	$\begin{array}{r} 1\ 230 \\ \cdot 3 \\ \hline \end{array}$ <p>.....</p>	$\begin{array}{r} 3\ 214 \\ \cdot 2 \\ \hline \end{array}$ <p>.....</p>
2.	$\begin{array}{r} 514 \\ \cdot 2 \\ \hline \end{array}$ <p>.....</p>	$\begin{array}{r} 731 \\ \cdot 3 \\ \hline \end{array}$ <p>.....</p>	$\begin{array}{r} 620 \\ \cdot 4 \\ \hline \end{array}$ <p>.....</p>	$\begin{array}{r} 401 \\ \cdot 5 \\ \hline \end{array}$ <p>.....</p>	$\begin{array}{r} 3\ 222 \\ \cdot 4 \\ \hline \end{array}$ <p>.....</p>	$\begin{array}{r} 8\ 043 \\ \cdot 2 \\ \hline \end{array}$ <p>.....</p>
3.	$\begin{array}{r} 112 \\ \cdot 8 \\ \hline \end{array}$ <p>.....</p>	$\begin{array}{r} 126 \\ \cdot 3 \\ \hline \end{array}$ <p>.....</p>	$\begin{array}{r} 317 \\ \cdot 3 \\ \hline \end{array}$ <p>.....</p>	$\begin{array}{r} 429 \\ \cdot 2 \\ \hline \end{array}$ <p>.....</p>	$\begin{array}{r} 2\ 018 \\ \cdot 4 \\ \hline \end{array}$ <p>.....</p>	$\begin{array}{r} 3\ 125 \\ \cdot 2 \\ \hline \end{array}$ <p>.....</p>
4.	$\begin{array}{r} 137 \\ \cdot 3 \\ \hline \end{array}$ <p>.....</p>	$\begin{array}{r} 228 \\ \cdot 4 \\ \hline \end{array}$ <p>.....</p>	$\begin{array}{r} 116 \\ \cdot 8 \\ \hline \end{array}$ <p>.....</p>	$\begin{array}{r} 239 \\ \cdot 3 \\ \hline \end{array}$ <p>.....</p>	$\begin{array}{r} 1\ 015 \\ \cdot 7 \\ \hline \end{array}$ <p>.....</p>	$\begin{array}{r} 2\ 129 \\ \cdot 4 \\ \hline \end{array}$ <p>.....</p>
5.	$\begin{array}{r} 278 \\ \cdot 3 \\ \hline \end{array}$ <p>.....</p>	$\begin{array}{r} 148 \\ \cdot 5 \\ \hline \end{array}$ <p>.....</p>	$\begin{array}{r} 356 \\ \cdot 2 \\ \hline \end{array}$ <p>.....</p>	$\begin{array}{r} 184 \\ \cdot 4 \\ \hline \end{array}$ <p>.....</p>	$\begin{array}{r} 1\ 197 \\ \cdot 5 \\ \hline \end{array}$ <p>.....</p>	$\begin{array}{r} 2\ 289 \\ \cdot 3 \\ \hline \end{array}$ <p>.....</p>
6.	$\begin{array}{r} 358 \\ \cdot 3 \\ \hline \end{array}$ <p>.....</p>	$\begin{array}{r} 195 \\ \cdot 8 \\ \hline \end{array}$ <p>.....</p>	$\begin{array}{r} 274 \\ \cdot 4 \\ \hline \end{array}$ <p>.....</p>	$\begin{array}{r} 396 \\ \cdot 3 \\ \hline \end{array}$ <p>.....</p>	$\begin{array}{r} 1\ 820 \\ \cdot 6 \\ \hline \end{array}$ <p>.....</p>	$\begin{array}{r} 2\ 756 \\ \cdot 4 \\ \hline \end{array}$ <p>.....</p>