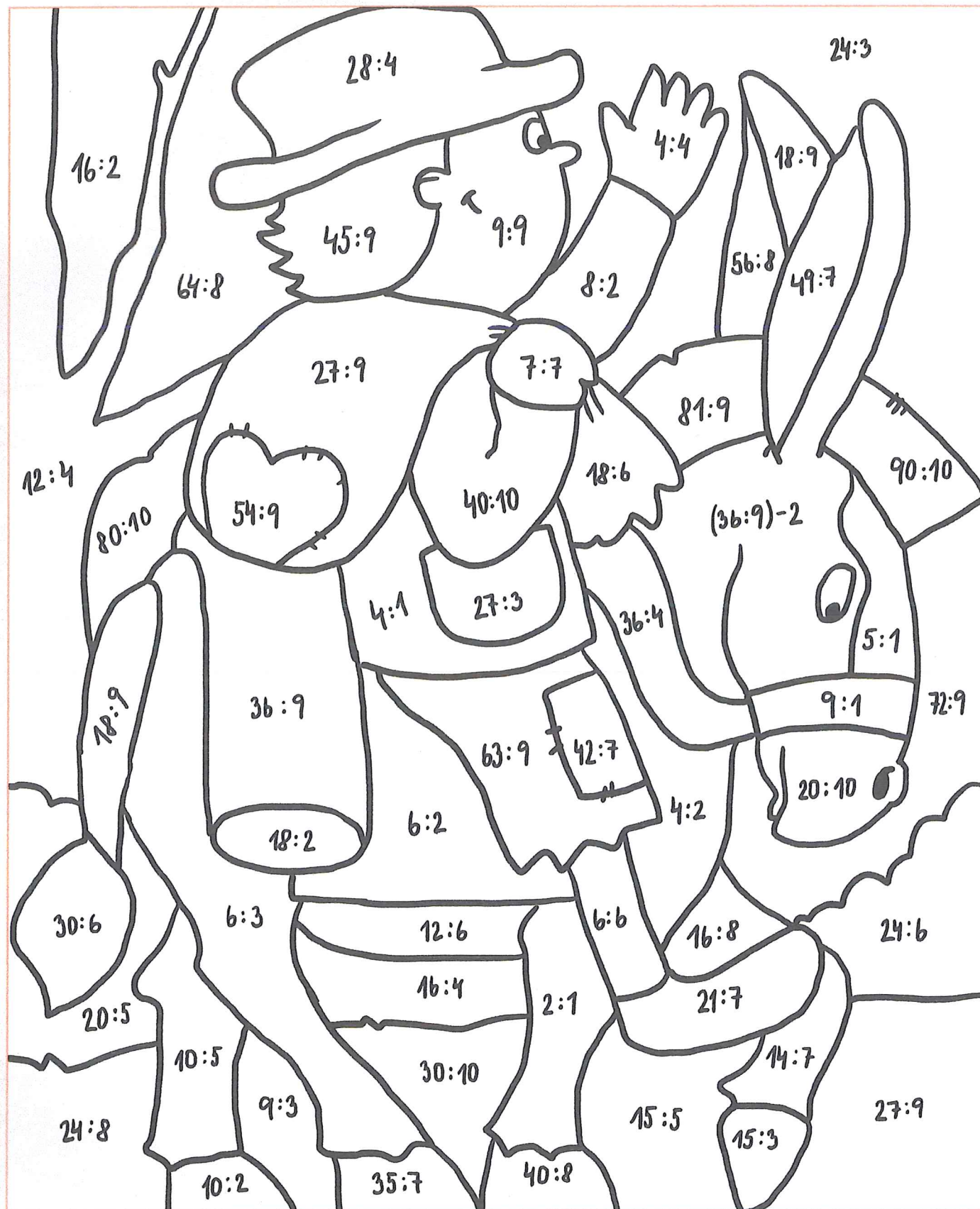




Vypočítej příklady a vybarvi obrázek podle návodu, který je pod ním.



1 = oranžová    2 = šedá    3 = hnědá    4 = zelená    5 = černá    6 = červená    7 = růžová    8 = modrá    9 = žlutá



**ÚSEČKA - rýsování**

Narýsuj tyto úsečky:

$|OP| = 7 \text{ cm}$

$|XY| = 12 \text{ cm}$

$|MN| = 9 \text{ cm}$

$|CD| = 6 \text{ cm } 5 \text{ mm}$

$|UV| = 10 \text{ cm } 5 \text{ mm}$


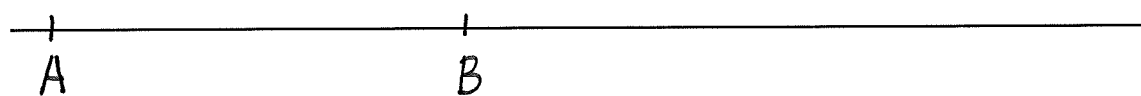
$|GH| = 8 \text{ cm } 8 \text{ mm}$

**ÚSEČKA**

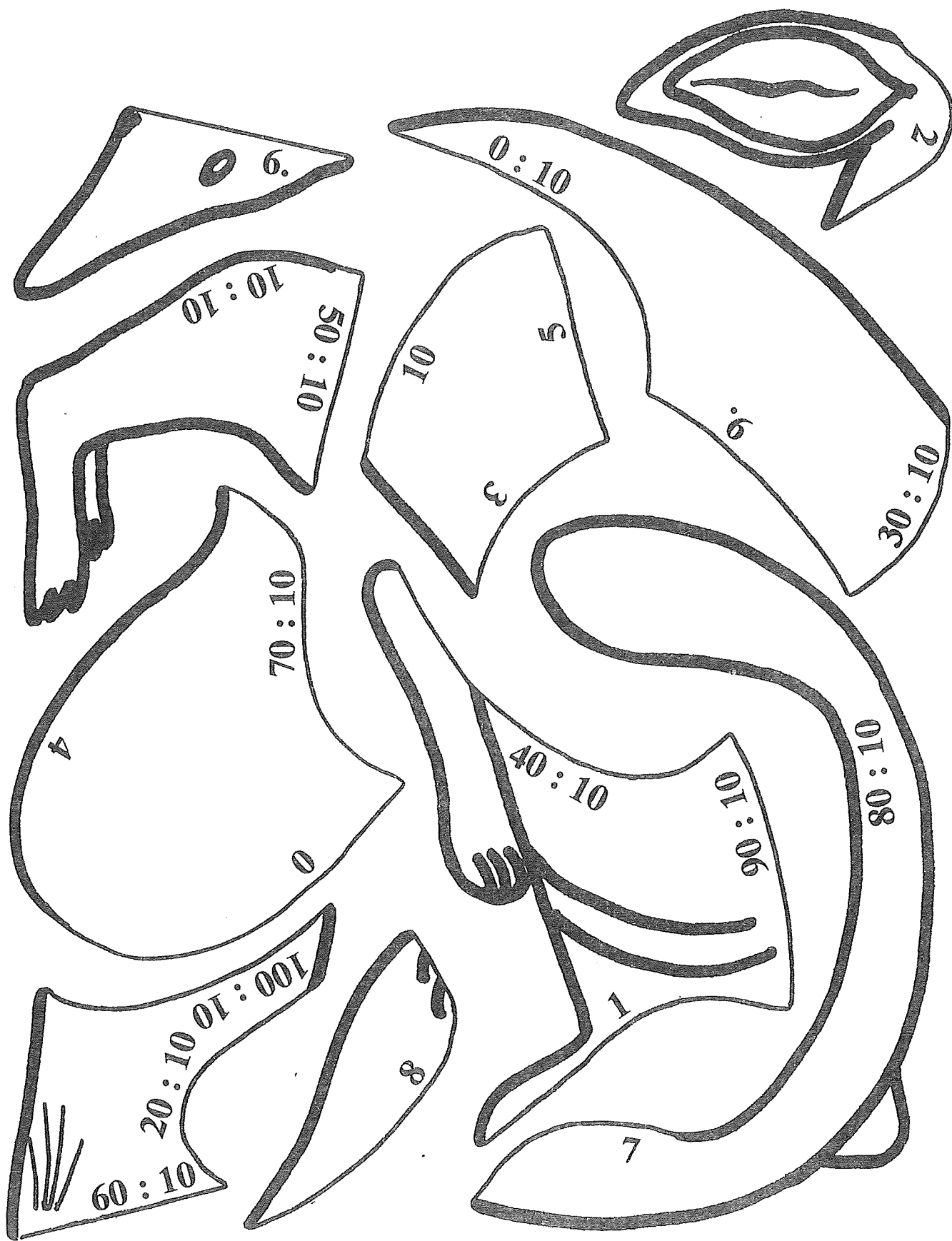
Úsečka je \_\_\_\_\_

Úsečku můžeme \_\_\_\_\_

Změř délky úseček a zapiš je:

 $|RS| = \underline{\hspace{2cm}}$  $|EF| = \underline{\hspace{2cm}}$  $|KL| = \underline{\hspace{2cm}}$  $|AB| = \underline{\hspace{2cm}}$

Mgr. Jarmila Posádková: Hrajeme si s násobkou  
B - 10



Násobky devíti

28 18 12

81 72

63 54 45


90 36 27

8 32

40 9

18 ○

18



27 36 45 54 63 72 27

9

36

6 4

20 24 12

45 90

NAPÍŠ NÁSOBKY 9:

16

81


54

63

72