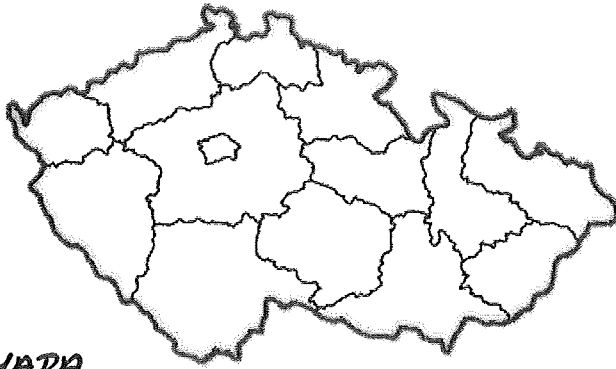


# VL - ZÁPIS - VYTÍBĚLOUT, PŘECÍST

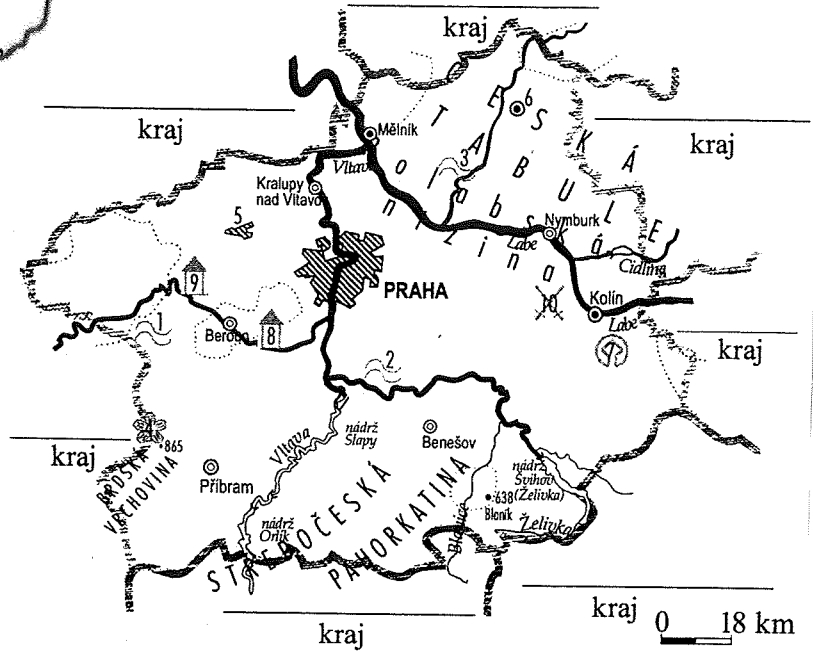
## STŘEDOČESKÝ KRAJ




SLEPA' MAPA

KONTROLA 19. 11.

- 1.
- 2.
- 3.
- 4.
- 5.
- 6.
- 7.
- 8.
- 9.
- 10.




Konopiště



Křivoklát



Kokořín



- území s nejstarším osídlením

**POLOHA:** okolí Prahy

podél toku řeky Labe – **POLABSKÁ NÍŽINA**

**ŘEKY:** Vltava, Labe, Sázava, Berounka, Jizera

Želivka – vodní nádrž, zásobárna pitné vody (50 km potrubí do Prahy)

**PRŮMYSL:** strojírenský, chemický, potravinářský, cementárny, těžba uhlí, hutě

**ZEMĚDĚLSTVÍ:** úrodná nížina – pšenice, cukrovka, ovoce, zelenina, vinná réva

**PAMÁTKY A ZAJÍMAVOSTI:**

Hrusice – J. Lada – kocour Mikeš

Český kras – Koněpruské jeskyně – nález zkamenělin pravěkých živočichů a rostlin, středověká penězokazecká dílna

Konopiště, Karlštejn, Křivoklát, Kokořín, Konopiště,

Lány – sídlo TGM

Lidice – vesnice vypálená během 2. světové války 1942

Slapy – přehrada, elektrárna, rekreace

**MĚSTA**

**Mělník** – soutok Labe a Vltavy, vinná réva

**Poděbrady** – lázně – srdeční a cévní choroby

**Kolín** – papírny, výroba automobilů TOYOTA, PEUGEOT, CITROEN

**Kutná Hora** – v historii těžba stříbra, ražba mincí, chrám sv. Barbory

**Mladá Boleslav** – výroba automobilů – ŠKODA AUTO

**Kladno** – těžba uhlí, hutní průmysl

**Beroun** – výroba cementu


**Příbram** – hornické město



Kocour Mikeš – J. Lada



Hrusice



Znak Středočeského kraje



Kladno



Mělník



Lidice



Kutná Hora



Poděbrady

## Práce se SLEPOU MAPOU

Na PL u každého kraje najdete vždy **SLEPOU MAPU** – mapu, na které chybí názvy některých zeměpisných míst (řek, vrcholů, hradů, zámků, měst apod.) Místo chybějícího názvu je označeno číslem a vyznačeným symbolem o jaký zeměpisný objekt se jedná (vysvětlení najdeš v tabulce níže).

Vaším úkolem je najít postupně všechna očíslovaná místa na slepé mapě ( 1 – 10) a na mapě v učebnici u konkrétního kraje najít jejich názvy. Ty potom zapíšete na řádky k odpovídajícím číslům.

Do slepé mapy potom doplníte všechny sousední kraje, se kterými daný kraj sousedí.

**Tabulka symbolů zeměpisných míst, které najdete u jednotlivých hledaných míst na SLEPÉ MAPĚ**

|                             |  |
|-----------------------------|--|
| Město                       |  |
| Řeka                        |  |
| Vodní nádrž, jezero, rybník |  |
| Hrad, zámek, zřícenina      |  |
| Vrchol                      |  |
| Lázně                       |  |
| Významné bojiště            |  |
| Propast                     |  |
| Památka UNESCO              |  |

**Příklad hledání ve slepé mapě Středočeského kraje:**

Najdu si číslo 1 na slepé mapě a symbol, který je u čísla 1 nakreslen . Kouknu se do mapy v učebnici na str. 8 (barevná mapa kraje) a najdu název řeky, která odpovídá označení číslem 1. Vidím, že je to řeka **BEROUNKA** a název napíšu na linku k č. 1 do PL. Podobně pokračuj u dalších míst.

