

# 1. EKOSYSTÉM POLE – ROSTLINY

1. Doplňte názvy obilnin.

POŠLI 13.1.  
↪



\_\_\_\_\_ obecný



\_\_\_\_\_ setá

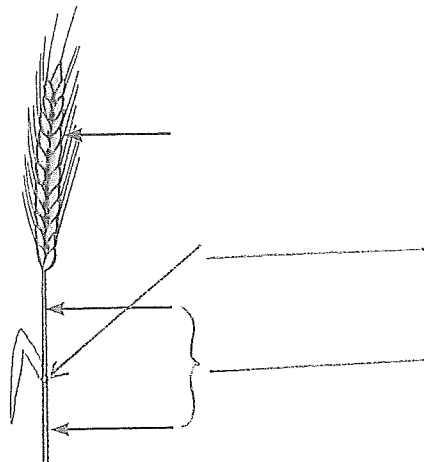
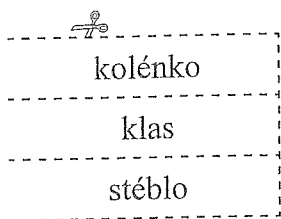


\_\_\_\_\_ seté



\_\_\_\_\_ se

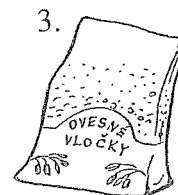
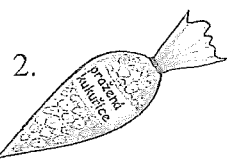
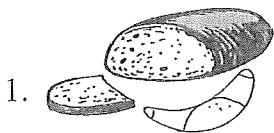
2. Popište stavbu těla obilnin.



\_\_\_\_\_ se

3. Křížovka.

Doplňte názvy polních plodin, které jsou základní surovinou k výrobě potravin na obrázcích.



1.													setá
2.													setá
3.													setý
4.													obecný
5.													brambor

Tajenka: 

--	--	--	--	--

 dobrou chuť!

Vyjmenujte ostatní výrobky z obilnin, které znáte. Vypište ty, které jíte:

k snídani a ke svačině: \_\_\_\_\_

k obědu nebo k večeři: \_\_\_\_\_