

VYPRACUJ SLEDOU MAPY
VĚ. STĚ. LO

KONTROLA
M. J.

1.

2.

3.

4. (VRKONOŠE)

5. (VRKONOŠE)

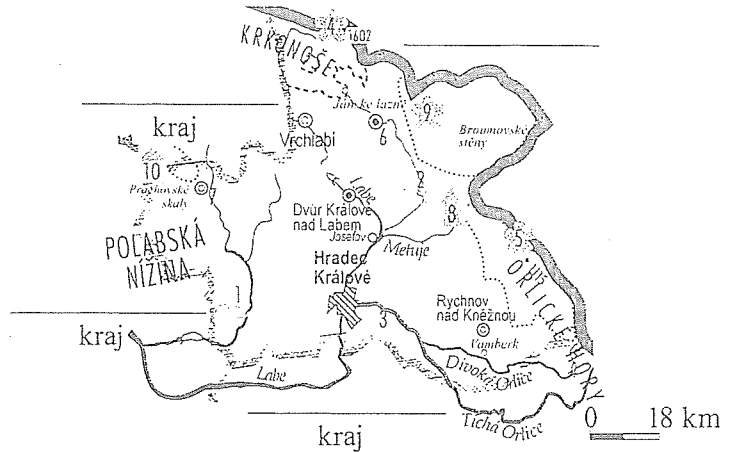
6.

7.

8.

9. (ORLICKÉ HORY)

10.



POLOHA

Na severovýchodě Čech při hranicích s Polskem

POVRCH

Krkonoše - Sněžka, Orlické hory, Český ráj – Prachovské skály, Polabská nížina

VODSTVO

Labe, Cidlina, vodní nádrž Rozkoš

PRŮMYSL

Textilní průmysl, výroba krajek – Vamberk, výroba klavírů – Hradec Králové

ZEMĚDĚLSTVÍ

Pšenice, kukuřice, cukrovka, brambory a len, chov skotu a ovcí

PAMÁTKY A ZAJÍMAVOSTI

Hrad Kost, zámek Kuks, Ratibořice – Babiččino údolí, výroba klavírů Petrof, Prachovské skály – Rumcajs, Manka, Cipísek

Hradec Králové – královské město, sídlo královen

MĚSTA


Hradec Králové krajské město, výroba klavírů

Náchod zámek

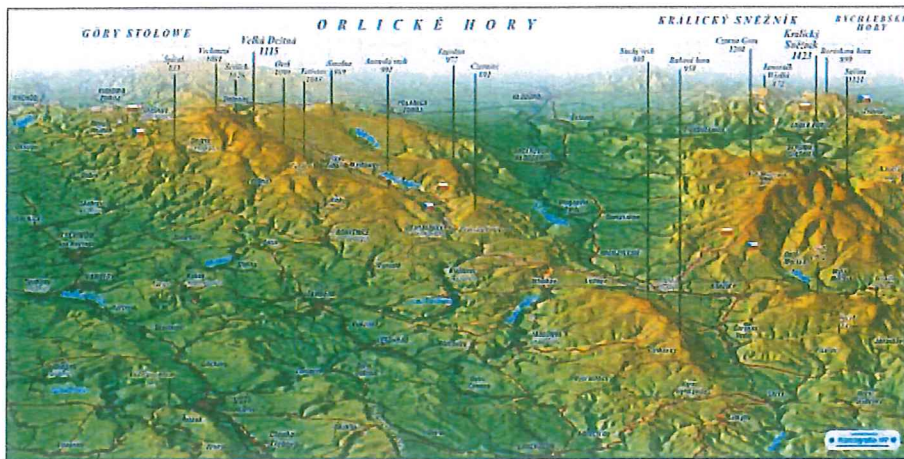
Trutnov textilní výroba




HRADEC KRÁLOVÉ



ZNAK KRÁLOVĚHRADECKÉHO KRAJE



ORLICKÉ HORY



KRKONOŠE



NÁCHOD



BABIČČINO ÚDOLÍ



KRÁLOVĚRADECKÝ KRAJ



ZÁKLADNÍ ÚDAJE

Krajské město:

Počet okresů:

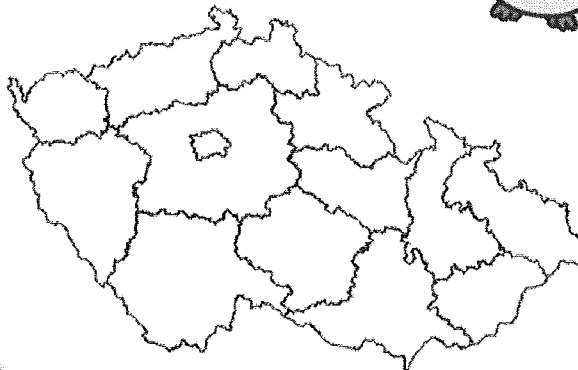
Vypiš okresní města:

.....

.....

Nejvyšší bod:

Najdi a vybarvi Královohradecký kraj



KRAJINA

Rozkládají se zde 2 pohoří:

1. K.....
2. hory

Velkou zajímavostí jsou pískovcové skalní útvary:

A..... skály.

Protéká tudy jedna z největších řek:

.....



VÝROBA

V Hradci Králové sídlí firma Petrof. Zjisti, co vyrábí.

.....

SLAVNÝ RODÁK

Jméno:

Místo narození:

Co dělal/dělá:

Nakresli nebo nalep jeho obrázek.

PAMÁTKA – vyber si jednu, která se ti líbí, a nalep nebo nakresli její obrázek.

Jak se jmenuje, a kde se nachází?

.....

CHKO

Jaké chráněné krajinné oblasti jsou na ve Královohradeckém kraji?

1. CHKO
2. CHKO

JAK MI TO DNES ŠLO?



Pětiminutová výzva


Vezmi si mapu ČR, odměř si 5 minut. Za časový limit napiš do rámečku co nejvíce zeměpisných názvů z mapy na písmeno K.

K

Kolik zeměpisných názvů jsem našel/la

SEM POSLADEJ A UPLED
DÍLEH OBRÁTKU.

_____ a _____



Český ráj – Prachovské skály

TADY _____ a _____ BYDLELI.
HEĚLI SYNEK _____.

P _____ K _____
1. T I _____ A
2. D _____
3. _____
4. S _____ Č _____
5. _____
6. _____ Á _____ I _____ K

VYLUŠŤI KLÍČOVKU 😊

Pokud hrajete na piano značky
....., pochází právě
z Hradce Králové, kde tato firma
sídlí.

1. víko
2. pravidla společenského chování
3. opovržlivost
4. rýma (zdrobněle)
5. polodlouhý útes
6. zarytý nadšenec

VYOTŘÍHNI VŠECHNY DÍLKY.

DO PŘIPRAVENÉHO ZAHNÁČKU V PL 1 SLOŽ 2 DÍLKŮ OBRÁZEK A KALEP.

NAPIŠ NÁZEV POSTAVIČEK NA OBRÁZKU.

MŮŽEŠ VYBARVIT.

