

Užitkové rostliny:

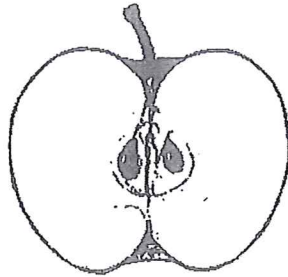
1. OVOCE – roste na s a k.

Dužnaté plody dělíme na:

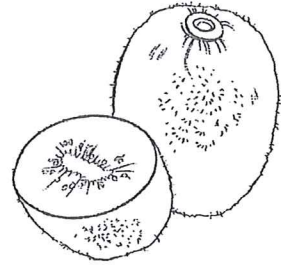
p



m




b

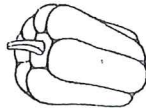


2. ZELENINA

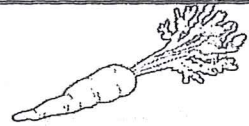
l



p



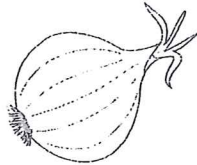
k



k




c



3. HOSPODÁŘSKÉ PLODINY

- Obilniny: _____
- Luskoviny: _____
- Okopaniny: _____
- Pícniny: _____

ČÁSTI KVETOUČÍCH ROSTLIN

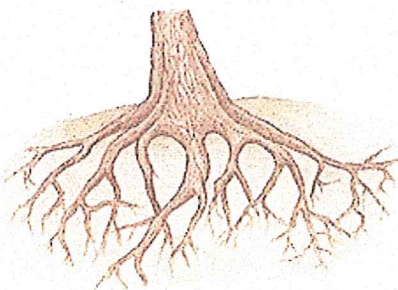


1. KOŘENY


_____ rostlinu v půdě.

Z půdy přijímají _____ a _____.


Kořeny



kořeny stromu



kořeny trávy



kořeny mrkve

2. STONKY

Přivádí vodu a živiny z kořenů do _____, _____, _____.

Podle stonku dělíme rostliny na:

a) _____ - mají dřevnatý stonk - _____.

Jsou to _____ a _____.

b) _____ - mají dužnatý stonk.

STONKY BYLIN:



stonek bez listů



stonek s listy



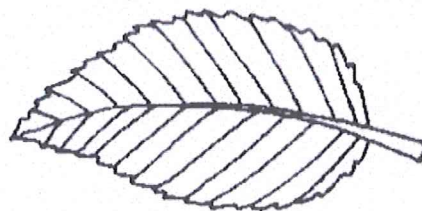
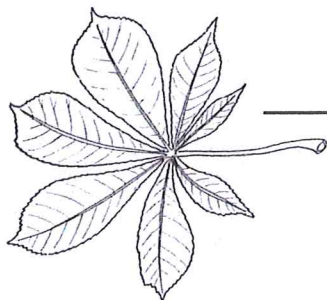
stonek dutý s kolénky

3. LISTY

Vyrůstají ze _____.

U stromů a keřů rostou z _____.

Zelenou barvu způsobuje barvivo _____.



Listy jehličnatých stromů nazýváme _____.