

CENÍK OVOCE A ZELENINY			
OVOCE		ZELENINA	
Jablka	28,60/kg	Rajčata	36,20/kg
Hrušky	34,20/kg	Okurky	18,60/kg
Banány	18,80/kg	Papriky	48,80/kg
Jahody	44,60/kg	Salát	14,40/kg
Mandarinky	46,20/kg	Ředkvičky	14,80/kg
Pomeranče	45,00/kg	Ředlubny	22,20/kg
Švestky	36,40/kg	Mrkev	15,00/kg
Třešně	36,80/kg	Cibule	8,80/kg

Pracuj s tabulkou podle zadaných úkolů:


1. Které ovoce je nejlevnější a které je nejdražší?

2. Která zelenina je nejlevnější a která je nejdražší?

3. Kolik korun stojí v průměru 1kg ovoce?



4. Kolik korun stojí v průměru 1kg zeleniny?



5. Vypočítej kolik korun Petr utratil za tento nákup?

2kg jablek, 1,5kg banánů, 0,5kg jahod a 4kg pomerančů.

Kolik korun mu vrátila paní prodavačka, jestliže jí podal 500Kč?

6. Jana dostala od maminky za úkol nakoupit zeleninu na salát.

Koupila tedy:




0,5kg okurky, 0,25kg cibule, 1kg papriky a 0,5kg rajčat.

Kolik Jana utratila celkem za nákup?

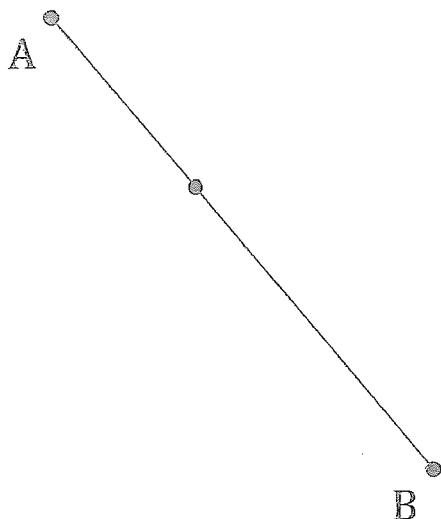
Kolik jí paní prodavačka vrátila, jestliže jí podala 200Kč?

7. Jelikož jsou Jana s Petrem sourozenci, maminka chtěla vědět kolik

korun průměrně Jana s Petrem utratili dohromady za ovoce a zeleninu.



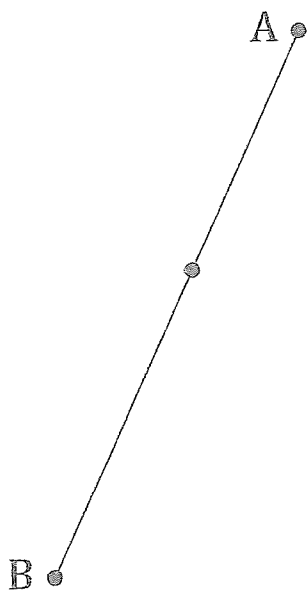
1.



2.



3.



4.

