

1. Vypočítej a proved' zkoušku.

$230 : 30 = \underline{\quad} \text{ zb. } \underline{\quad} \text{ Zk. } \underline{\quad}$

$460 : 50 = \underline{\quad} \text{ zb. } \underline{\quad}$

$390 : 60 = \underline{\quad} \text{ zb. } \underline{\quad}$

$1\,900 : 200 = \underline{\quad} \text{ zb. } \underline{\quad} \text{ Zk. } \underline{\quad}$

$3\,800 : 700 = \underline{\quad} \text{ zb. } \underline{\quad}$

$2\,700 : 400 = \underline{\quad} \text{ zb. } \underline{\quad}$

6	
---	--

2. Vypočítej písemně, proved' zkoušku. (výpočet 1 bod, zkouška 1 bod)

$4\,128 : 29 = \underline{\quad}$

$16\,462 : 32 = \underline{\quad}$

$73\,562 : 48 = \underline{\quad}$

6	
---	--

3. Počítej z paměti.

a) $6\,300\,000 + 2\,500\,000 = \underline{\quad}$

$19\,000\,000 - 4\,500\,000 = \underline{\quad}$

$42\,000\,000 : 6 = \underline{\quad}$

b) $37 \cdot 100\,000 = \underline{\quad}$

$84 \cdot 1\,000\,000 = \underline{\quad}$

$26\,800\,000 : 100\,000 = \underline{\quad}$

6	
---	--

4. Vypočítej písemně.

$$\begin{array}{r} 43\,982\,546 \\ 8\,729\,825 \\ \hline \end{array}$$

$$\begin{array}{r} 57\,342\,977 \\ 931\,084 \\ \hline \end{array}$$

$$\begin{array}{r} 84\,732\,164 \\ - 7\,384\,527 \\ \hline \end{array}$$

$$\begin{array}{r} 56\,487\,240 \\ - 38\,269\,527 \\ \hline \end{array}$$

4	
---	--

5. Pro školu zakoupili 52 stejných čítanek za 5 096 Kč. Ještě je třeba 18 těchto čítanek dokoupit. Kolik korun škola zaplatí za všechny čítaneky dohromady?

2	
---	--

6. Cestovní kancelář vybrala od 30 dospělých účastníků zájezdu částku 262 500 Kč. Kolik stál zájezd pro jednoho účastníka?

2	
---	--

7. Rychlíkem jsme ujeli za 4 hodiny 320 kilometrů. Jakou průměrnou rychlostí jsme jeli?

2	
---	--

8. Televizor, který stál původně 14 280 Kč, byl zlevněn o třetinu ceny. O kolik korun byl zlevněn? Kolik stojí nyní?

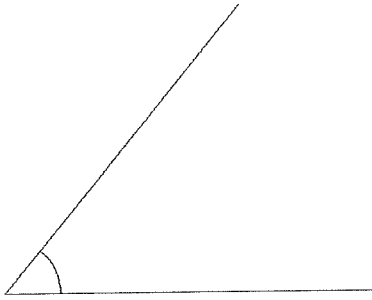
2	
---	--

Maximální počet bodů: 30

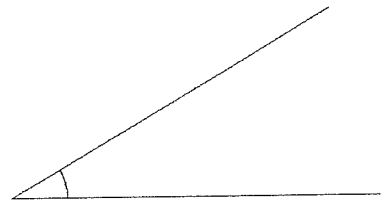
Dosažený počet bodů:

--

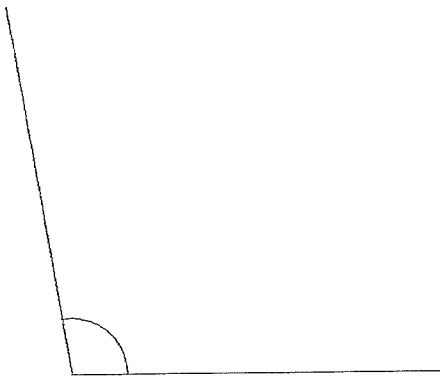
1.



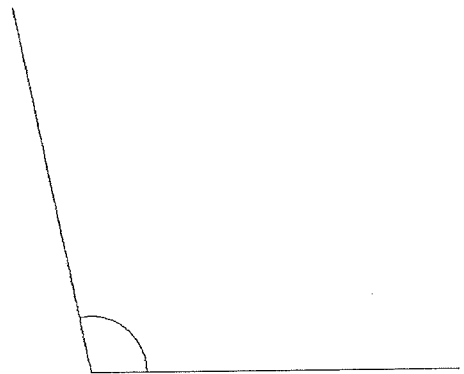
2.



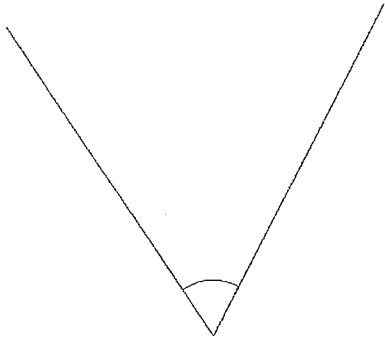
3.




4.



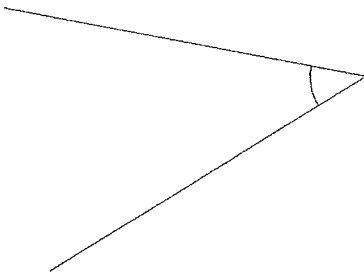
1.



2.



3.



4.

